

Problemas métricos

Ángulo entre rectas y planos

Ángulo entre dos rectas

El **ángulo que forman dos rectas** es el ángulo agudo que determinan entre sí sus vectores directores.

$$\alpha(r, s) = \alpha(\vec{u}, \vec{v}) = \arccos \frac{|u_1 \cdot v_1 + u_2 \cdot v_2 + u_3 \cdot v_3|}{\sqrt{u_1^2 + u_2^2 + u_3^2} \cdot \sqrt{v_1^2 + v_2^2 + v_3^2}}$$

Dos rectas son perpendiculares si **vectores directores son ortogonales** (su producto escalar es cero).

$$r \perp s \quad \vec{u} \cdot \vec{v} = 0 \quad u_1 \cdot v_1 + u_2 \cdot v_2 + u_3 \cdot v_3 = 0$$

Ej. 1:

Hallar el **ángulo** que forman las **rectas**:

$$r \equiv \frac{x-2}{2} = \frac{y+1}{1} = \frac{z}{1} \quad s \equiv \frac{x+1}{-1} = \frac{y}{2} = \frac{z}{1}$$

$$\vec{u} = (2, 1, 1) \quad \vec{v} = (-1, 2, 1)$$

$$\alpha(r, s) = \alpha(\vec{u}, \vec{v}) = \arccos \frac{|2 \cdot (-1) + 1 \cdot 2 + 1 \cdot 1|}{\sqrt{2^2 + 1^2 + 1^2} \cdot \sqrt{(-1)^2 + 2^2 + 1^2}} = \frac{1}{6}$$

$$(\widehat{r, s}) = \arccos \frac{1}{6} = 80.41^\circ$$

Ej. 2:

Hallar el **ángulo** que forman las **rectas**:

$$r \equiv \begin{cases} 2x + 3y - z + 1 = 0 \\ x - y + 2z + 2 = 0 \end{cases} \quad s \equiv \begin{cases} 3x - y + z - 3 = 0 \\ 2x + y - 3z + 1 = 0 \end{cases}$$

$$\vec{u} = \begin{vmatrix} \vec{i} & \vec{j} & \vec{k} \\ 2 & 3 & -1 \\ 1 & -1 & 2 \end{vmatrix} = 5\vec{i} - 5\vec{j} - 5\vec{k} \quad \vec{v} = \begin{vmatrix} \vec{i} & \vec{j} & \vec{k} \\ 3 & -1 & 1 \\ 2 & 1 & -3 \end{vmatrix} = 2\vec{i} + 11\vec{j} + 5\vec{k}$$

$$\vec{u} = (5, -5, -5) \quad \vec{v} = (2, 11, 5)$$

$$\alpha(r, s) = \alpha(\vec{u}, \vec{v}) = \arccos \frac{|5 \cdot 2 + (-5) \cdot 11 + (-5) \cdot 5|}{\sqrt{5^2 + (-5)^2 + (-5)^2} \cdot \sqrt{2^2 + 11^2 + 5^2}} = \frac{70}{\sqrt{75} \cdot \sqrt{150}}$$

$$(\widehat{r, s}) = \arccos \frac{70}{75 \cdot \sqrt{2}} = 48.70^\circ$$

Ej. 3:

Hallar el **ángulo** que forma las **rectas**:

$$r \equiv \frac{x+1}{1} = \frac{y-1}{2} = \frac{z-2}{3} \quad s \equiv \begin{cases} x+y+z=0 \\ 2x-y+3z-1=0 \end{cases}$$

$$\vec{v} = \begin{vmatrix} \vec{i} & \vec{j} & \vec{k} \\ 1 & 1 & 1 \\ 2 & -1 & 3 \end{vmatrix} = 4\vec{i} - \vec{j} - 3\vec{k}$$

$$\vec{u} = (1, 2, 3)$$

$$\vec{v} = (4, -1, -3)$$

$$\alpha(r, s) = \alpha(\vec{u}, \vec{v}) = \arccos \frac{|1 \cdot 4 + 2 \cdot (-1) + 3 \cdot (-3)|}{\sqrt{1^2 + 2^2 + 3^2} \cdot \sqrt{4^2 + (-1)^2 + (-3)^2}} = \frac{7}{\sqrt{14} \cdot \sqrt{26}}$$

$$(\widehat{r, s}) = \arccos \frac{7}{\sqrt{14} \cdot \sqrt{26}} = 68.48^\circ$$

Ángulo entre dos planos

El **ángulo** formado por **dos planos** es igual al ángulo agudo determinado por los vectores normales de dichos planos.

$$\vec{n}_1 = (A_1, B_1, C_1) \quad \vec{n}_2 = (A_2, B_2, C_2)$$

$$\alpha(\pi_1, \pi_2) = \alpha(\vec{n}_1, \vec{n}_2) = \arccos \frac{|A_1 \cdot A_2 + B_1 \cdot B_2 + C_1 \cdot C_2|}{\sqrt{A_1^2 + B_1^2 + C_1^2} \cdot \sqrt{A_2^2 + B_2^2 + C_2^2}}$$

Dos planos son perpendiculares si **vectores directores son ortogonales**.

$$\pi_1 \perp \pi_2 \quad \vec{n}_1 \cdot \vec{n}_2 = 0 \quad A_1 \cdot A_2 + B_1 \cdot B_2 + C_1 \cdot C_2 = 0$$

Ejemplo

Hallar el **ángulo** que forman los **planos**:

$$\pi_1 \equiv 2x - y + z - 1 = 0 \quad \pi_2 \equiv x + z + 3 = 0$$

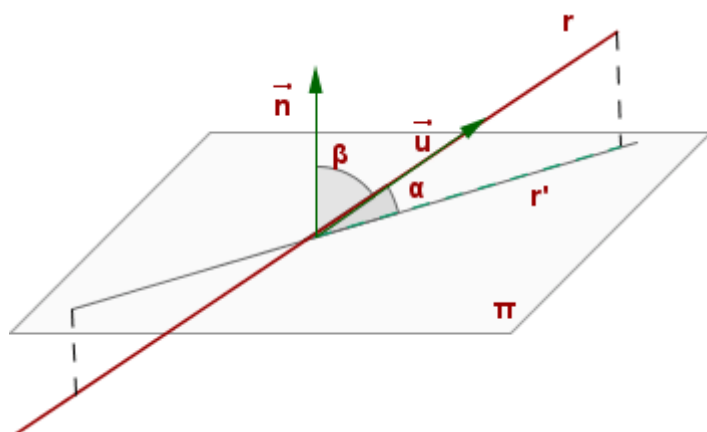
$$\vec{n}_1 = (2, -1, 1) \quad \vec{n}_2 = (1, 0, 1)$$

$$\alpha(\pi_1, \pi_2) = \alpha(\vec{n}_1, \vec{n}_2) = \arccos \frac{|2 \cdot 1 + (-1) \cdot 0 + 1 \cdot 1|}{\sqrt{2^2 + (-1)^2 + 1^2} \cdot \sqrt{1^2 + 0^2 + 1^2}} = \frac{3}{\sqrt{6} \cdot \sqrt{2}}$$

$$(\widehat{\pi_1, \pi_2}) = \arccos \frac{\sqrt{3}}{2} = 30^\circ$$

Ángulo entre recta y plano

El **ángulo** que forman una **recta**, r , y un **plano**, π , es el ángulo formado por r con su proyección ortogonal sobre π , r' .



El **ángulo** que forman una **recta** y un **plano** es igual al **complementario** del **ángulo agudo** que forman el **vector director** de la recta y el **vector normal** del plano.

$$\vec{u} = (u_1, u_2, u_3) \quad \vec{n} = (A, B, C)$$

$$\text{sen } \alpha = \text{cos } \beta = \text{cos}(\vec{n}, \vec{u}) = \frac{|\vec{n} \cdot \vec{u}|}{|\vec{n}| \cdot |\vec{u}|}$$

$$\alpha = \text{arc sen} \frac{|A \cdot u_1 + B \cdot u_2 + C \cdot u_3|}{\sqrt{A^2 + B^2 + C^2} \cdot \sqrt{u_1^2 + u_2^2 + u_3^2}}$$

Si la recta r y el plano π son perpendiculares, el vector director de la recta y el vector normal del plano tienen la misma dirección y, por tanto, sus componentes son proporcionales.

$$\frac{u_1}{A} = \frac{u_2}{B} = \frac{u_3}{C}$$

Ej. 1

Determinar el **ángulo** que forman la **recta** y el **plano**. $r \equiv \frac{x-1}{2} = \frac{y+1}{1} = \frac{z}{2}$

$$\pi \equiv x + y - 1 = 0$$

$$\vec{u} = (2, 1, 2) \quad \vec{n} = (1, 1, 0)$$

$$\alpha = \text{arc sen} \frac{\sqrt{2}}{2} = 45^\circ$$

Ej. 2

Hallar el **ángulo** que forman la **recta** y el **plano**. $r \equiv \begin{cases} x + 3y - z + 3 = 0 \\ 2x - y - z - 1 = 0 \end{cases}$

$$\pi \equiv 2x - y + 3z + 1 = 0$$

$$\vec{u} = \begin{vmatrix} \vec{i} & \vec{j} & \vec{k} \\ 1 & 3 & -1 \\ 2 & -1 & -1 \end{vmatrix} = -4\vec{i} - \vec{j} - 7\vec{k}$$

$$\vec{u} = (-4, -1, -7) \quad \vec{n} = (2, -1, 3)$$

$$\operatorname{sen} \alpha = \frac{|-4 \cdot 2 + (-1) \cdot (-1) + (-7) \cdot 3|}{\sqrt{(-4)^2 + (-1)^2 + (-7)^2} \cdot \sqrt{2^2 + (-1)^2 + 3^2}} = \frac{28}{\sqrt{66} \cdot \sqrt{14}}$$

$$\alpha = \operatorname{arc} \operatorname{sen} \frac{14}{\sqrt{231}} = 22.91^\circ$$

Ej. 3

Obtener el **ángulo** formado por el **plano** y la **recta** siguientes:

$$\pi \equiv x = 1 \quad r \equiv \begin{cases} y = 2 \\ 3x - \sqrt{3}z = 0 \end{cases}$$

$$r \equiv \begin{cases} x = \sqrt{3}\lambda \\ y = 2 \\ z = 3\lambda \end{cases} \quad \vec{u}_r = (\sqrt{3}, 0, 3) \quad \vec{n} = (1, 0, 0)$$

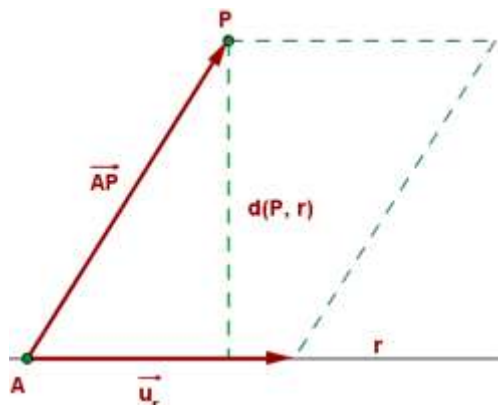
$$\operatorname{sen} \alpha = \frac{|\sqrt{3} \cdot 1 + 0 \cdot 0 + 3 \cdot 0|}{\sqrt{(\sqrt{3})^2 + 0^2 + 3^2} \cdot \sqrt{1^2 + 0^2 + 0^2}} = \frac{\sqrt{3}}{2\sqrt{3}} = \frac{1}{2}$$

$$\alpha = \operatorname{arc} \operatorname{sen} \frac{1}{2} = 30^\circ$$

Distancia entre rectas y planos

Distancia entre un punto y una recta

La **distancia de un punto, P, a una recta, r**, es la menor de la distancia desde el punto a los infinitos puntos de la recta. Esta distancia corresponde a la **perpendicular trazada desde el punto hasta la recta**.



$$d(P, r) = \frac{|\vec{u}_r \times \vec{AP}|}{|\vec{u}_r|}$$

Ej.1

1. Hallar la **distancia** desde el **punto** $P(1, 3, -2)$ a la **recta** .

$$\vec{AP} = (1-2, 3+1, -2-1) = (-1, 4, -3) \qquad \vec{u}_r = (3, 1, -2) \qquad r \equiv \begin{cases} x = 2 + 3\lambda \\ y = -1 + \lambda \\ z = 1 - 2\lambda \end{cases}$$

$$|\vec{u}_r \times \vec{AP}| = \sqrt{5^2 + 11^2 + 13^2} = 3\sqrt{35} \qquad |\vec{u}_r| = \sqrt{3^2 + 1^2 + (-2)^2} = \sqrt{14}$$

$$d(P, r) = \frac{3\sqrt{35}}{\sqrt{14}} = \frac{3\sqrt{10}}{2}$$

Ej.2

Hallar la **distancia desde el punto** $P(1, 2, 3)$ a la **recta**

$$A(2, 3, 4) \qquad \vec{AP} = (1-2, 2-3, 3-4) = (-1, -1, -1) \qquad \vec{u}_r = (4, 4, 2) \qquad r \equiv \frac{x-2}{4} = \frac{y-3}{4} = \frac{z-4}{2}$$

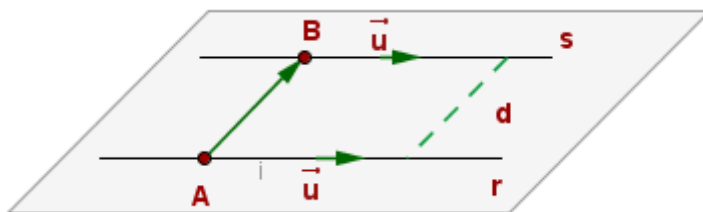
$$\vec{u}_r \times \vec{AP} = \begin{vmatrix} \vec{i} & \vec{j} & \vec{k} \\ -1 & -1 & -1 \\ 2 & 2 & 4 \end{vmatrix} = -2\vec{i} + 2\vec{j}$$

$$|\vec{u}_r \times \vec{AP}| = \sqrt{(-2)^2 + 2^2 + 0^2} = \sqrt{8} \qquad |\vec{u}_r| = \sqrt{4^2 + 4^2 + 2^2} = 6$$

$$d(P, r) = \frac{2\sqrt{2}}{6} = \frac{\sqrt{2}}{3}$$

Distancia entre rectas paralelas

La **distancia de una recta, r, a otra paralela, s**, es la distancia desde un punto cualquiera de r a s.

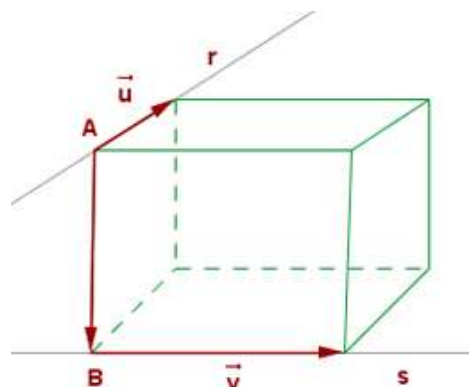


$$d(r, s) = d(A, s) = \frac{|\vec{u} \times \vec{AB}|}{|\vec{u}|}$$

Distancia entre rectas que se cruzan

La **distancia entre dos rectas que se cruzan** se mide sobre la **perpendicular común**.

Sean (A, \vec{u}) y (B, \vec{v}) las determinaciones lineales de las rectas r y s.



Los vectores \overrightarrow{AB} , \vec{u} y \vec{v} determinan un **paralelepípedo** cuya **altura** es la **distancia entre las dos rectas**.

El volumen de un paralelepípedo es $V = A_b \cdot h$

Teniendo en cuenta que el volumen es el valor absoluto del producto mixto de los tres vectores y el área de la base es el producto vectorial de los vectores directores de las rectas, la altura, es decir, la distancia entre los dos puntos es igual a:

$$d(r, s) = h = \frac{V}{A_b} = \frac{|[\overrightarrow{AB}, \vec{u}, \vec{v}]|}{|\vec{u} \times \vec{v}|}$$

Ejemplo

Hallar la mínima **distancia entre las rectas**:

$$r \equiv \frac{x+8}{2} = \frac{y-10}{3} = \frac{z-6}{1} \quad s \equiv \frac{x-1}{-1} = \frac{y-1}{2} = \frac{z-1}{4}$$

$$A(-8, 10, 6) \quad \vec{u} = (2, 3, 1)$$

$$\overrightarrow{AB} = (9, -9, -5)$$

$$B(1, 1, 1) \quad \vec{v} = (-1, 2, 4)$$

$$V = |[\overrightarrow{AB}, \vec{u}, \vec{v}]| = \begin{vmatrix} 9 & -9 & -5 \\ 2 & 3 & 1 \\ -1 & 2 & 4 \end{vmatrix} = 136$$

$$\vec{u} \times \vec{v} = \begin{vmatrix} \vec{i} & \vec{j} & \vec{k} \\ 2 & 3 & 1 \\ -1 & 2 & 4 \end{vmatrix} = 10\vec{i} - 9\vec{j} + 7\vec{k}$$

$$A_b = |\vec{u} \times \vec{v}| = \sqrt{10^2 - 9^2 + 7^2} = \sqrt{230}$$

$$h = \frac{136}{\sqrt{230}} = \frac{68\sqrt{230}}{115}$$

Distancia de un punto a un plano

La **distancia** de un **punto**, P, a un **plano**, π , es la menor de la distancia desde el punto a los infinitos puntos del plano. Esta distancia corresponde a la **perpendicular trazada desde el punto al plano**.

$$P(x_0, y_0, z_0) \quad \pi \equiv Ax + By + Cz + D = 0$$

$$d(P, \pi) = \frac{|Ax_0 + By_0 + Cz_0 + D|}{\sqrt{A^2 + B^2 + C^2}}$$

Ej. 1

Hallar la distancia del punto $P(3, 1, -2)$ a los planos $\pi_1 \equiv 2x + y - z + 1 = 0$ y $\pi_2 \equiv 2y - 3 = 0$.

$$d(P, \pi_1) = \frac{|2 \cdot 3 + 1 \cdot 1 - 1 \cdot (-2) + 1|}{\sqrt{2^2 + 1^2 + (-1)^2}} = \frac{10}{\sqrt{6}}$$

$$d(P, \pi_2) = \frac{|2 \cdot 1 - 3|}{\sqrt{0^2 + 2^2 + 0^2}} = \frac{1}{2}$$

Ej. 2

Hallar la distancia del punto $Q(5,5,3)$ al plano $\pi \equiv (x, y, z) = (0, 0, -4) + (2, 2, -1)\lambda + (-3, 2, 0)\mu$.

$$\begin{vmatrix} x & 2 & -3 \\ y & 2 & 2 \\ z + 4 & -1 & 0 \end{vmatrix} = 0 \quad 2x + 3y + 10z + 40 = 0$$

$$d(Q, \pi) = \frac{|5 \cdot 2 + 3 \cdot 5 + 10 \cdot 3 + 40|}{\sqrt{2^2 + 3^2 + 10^2}} = \frac{95}{\sqrt{113}}$$

Distancia entre planos paralelos

Para calcular la **distancia entre dos planos paralelos**, se halla la distancia de un punto cualquiera de uno de ellos al otro.

También se puede calcular de esta otra forma:

$$\pi_1 \equiv Ax + By + Cz + D_1 = 0 \quad \pi_2 \equiv Ax + By + Cz + D_2 = 0$$

$$d(\pi_1, \pi_2) = \frac{|D_2 - D_1|}{\sqrt{A^2 + B^2 + C^2}}$$

Ejemplo

Calcular la distancia entre los planos $\pi_1 \equiv 2x - y - 2z + 5 = 0$ y

$$\pi_2 \equiv 4x - 2y - 4z + 15 = 0$$

$$\frac{2}{4} = \frac{-1}{-2} = \frac{-2}{-4} \neq \frac{5}{15}$$

Los dos planos son paralelos.

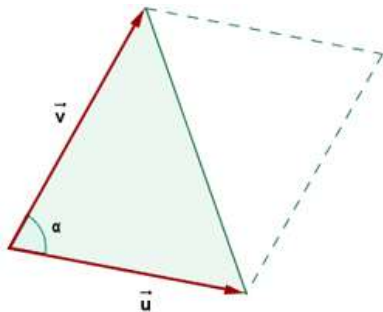
Transformamos la ecuación del segundo plano para que los dos planos tengan el mismo vector normal.

$$\pi_2 \equiv 2x - y - 2z + \frac{15}{2} = 0$$

$$d(\pi_1, \pi_2) = \frac{\left| \frac{15}{2} - 5 \right|}{\sqrt{2^2 + (-1)^2 + (-2)^2}} = \frac{5}{6}$$

Áreas y volúmenes

Área de un triángulo



$$A = \frac{1}{2} |\vec{u} \times \vec{v}|$$

Ejemplo

Determinar el **área del triángulo** cuyos vértices son los puntos A(1, 1, 3), B(2, -1, 5) y C(-3, 3, 1).

$$\vec{w} = \overrightarrow{AB} \times \overrightarrow{AC} = \begin{vmatrix} \vec{i} & \vec{j} & \vec{k} \\ 1 & -2 & 2 \\ -4 & 2 & -2 \end{vmatrix} =$$

$$= \begin{vmatrix} -2 & 2 \\ 2 & -2 \end{vmatrix} \vec{i} - \begin{vmatrix} 1 & 2 \\ -4 & -2 \end{vmatrix} \vec{j} + \begin{vmatrix} 1 & -2 \\ -4 & 2 \end{vmatrix} \vec{k} = 0\vec{i} - 6\vec{j} - 6\vec{k}$$

$$\vec{w} = (0, -6, -6)$$

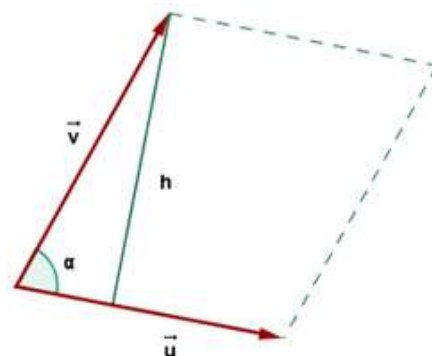
$$|\vec{w}| = \sqrt{0^2 + (-6)^2 + (-6)^2} = 6\sqrt{2}$$

$$A = \frac{1}{2} \cdot 6\sqrt{2} = 3\sqrt{2} \text{ u}^2$$

Área del paralelogramo

Geoméricamente, el **módulo del producto vectorial** de dos vectores coincide con el **área del paralelogramo** que tiene por lados a esos vectores.

$$A = |\vec{u}| \cdot h = |\vec{u}| |\vec{v}| \operatorname{sen} \alpha = |\vec{u} \times \vec{v}|$$



Ejemplo

Dados los vectores $\vec{u} = (3, 1, -1)$ y $\vec{v} = (2, 3, 4)$ y, hallar el área del paralelogramo que tiene por lados los vectores \vec{u} y \vec{v} .

$$\vec{u} \times \vec{v} = \begin{vmatrix} \vec{i} & \vec{j} & \vec{k} \\ 3 & 1 & -1 \\ 2 & 3 & 4 \end{vmatrix} = \begin{vmatrix} 1 & -1 \\ 3 & 4 \end{vmatrix} \vec{i} - \begin{vmatrix} 3 & -1 \\ 2 & 4 \end{vmatrix} \vec{j} + \begin{vmatrix} 3 & 1 \\ 2 & 3 \end{vmatrix} \vec{k} = 7\vec{i} - 14\vec{j} + 7\vec{k}$$

$$A = |\vec{u} \times \vec{v}| = \sqrt{7^2 + 14^2 + 7^2} = \sqrt{294} u^2$$

Volumen de un tetraedro

El **volumen de un tetraedro** es igual a **1/6 del producto mixto**, en valor absoluto.

$$V = \frac{1}{6} \begin{vmatrix} u_1 & u_2 & u_3 \\ v_1 & v_2 & v_3 \\ w_1 & w_2 & w_3 \end{vmatrix}$$

Ejemplo

Obtener el **volumen del tetraedro** cuyos vértices son los puntos A(3, 2, 1), B(1, 2, 4), C(4, 0, 3) y D(1, 1, 7).

$$\vec{AB} = (1-3, 2-2, 4-1) = (-2, 0, 3) \quad \vec{AC} = (4-3, 0-2, 3-1) = (1, -2, 2) \quad \vec{AD} = (1-3, 1-2, 7-1) = (-2, -1, 6)$$

$$V = \frac{1}{6} [\vec{u}, \vec{v}, \vec{w}]$$

$$[\vec{u}, \vec{v}, \vec{w}] = \begin{vmatrix} -2 & 0 & 3 \\ 1 & -2 & 2 \\ -2 & -1 & 6 \end{vmatrix} = 24 - 3 - 12 - 4 = 5$$

$$V = \frac{1}{6} \cdot 5 = \frac{5}{6} u^3$$

Volumen del paralelepípedo

Geoméricamente, el valor absoluto del **producto mixto** representa el **volumen del paralelepípedo** cuyas aristas son tres vectores que concurren en un mismo vértice.

Ejemplo

Hallar el **volumen del paralelepípedo** formado por los vectores: $\vec{u} = (3, -2, 5)$ $\vec{v} = (2, 2, -1)$ $w = (-4, 3, 2)$

$$V = [\vec{u}, \vec{v}, \vec{w}] = \begin{vmatrix} 3 & -2 & 5 \\ 2 & 2 & -1 \\ -4 & 3 & 2 \end{vmatrix} = 91 u^3$$